

Figury geometryczne

Zadanie 1

Rozwiąż zadania ze strony : https://gwo.pl/strony/3085/seo_link:figury-geometryczne-na-plaszczynie-kl-8

Zadanie 2

Ile wynosi przekątna kwadratu o boku :

- 5cm
- $7\sqrt{2}$ cm
- $2\sqrt{3}$ cm

Zadanie 3

Ile wynosi bok kwadratu, jeśli przekątna jest równa:

- 8cm
- $5\sqrt{2}$ cm

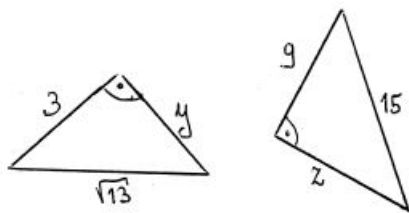
Zadanie 4

Ile wynosi pole trójkąta równobocznego:

- o boku 9cm
- o boku $3\sqrt{5}$ cm
- o wysokości $5\sqrt{3}$ cm

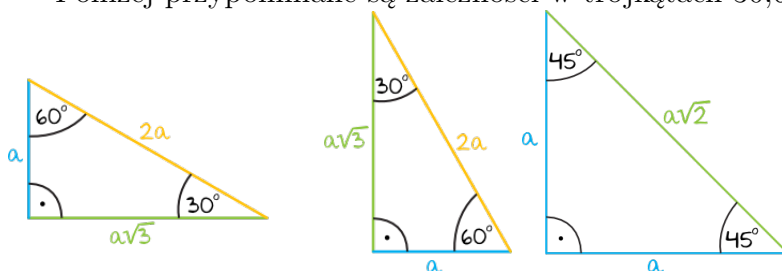
Zadanie 5

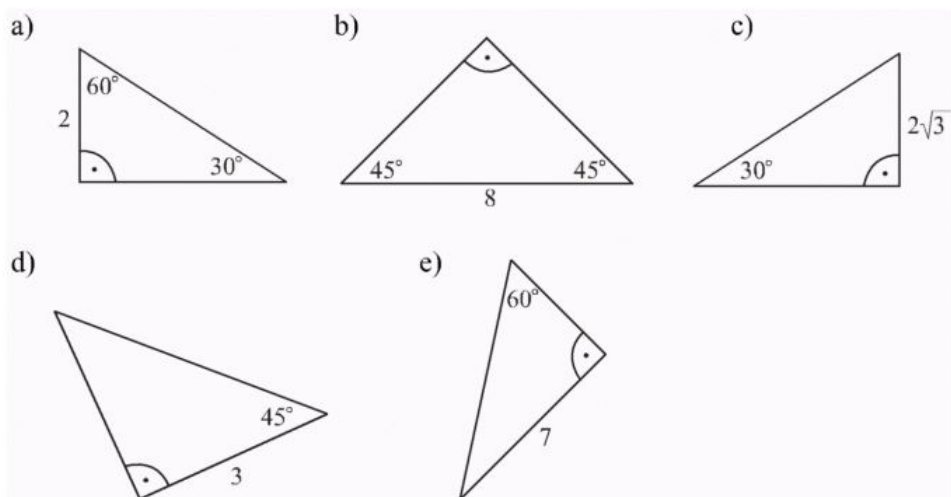
Oblicz długość boków trójkąta oznaczonych literkami.



Zadanie 6

Poniżej przypomniane są zależności w trójkątach 30,60,90 i 45,45,90.





Oblicz długości pozostałych boków trójkątów